

Preparación olímpica III: geometría

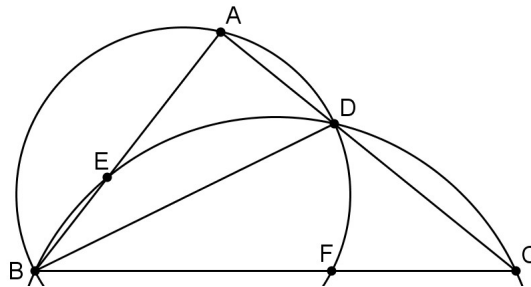
Soluciones

Adrián Rodrigo Escudero

20 de noviembre de 2015

Problema 1 (San Petersburgo 1996)

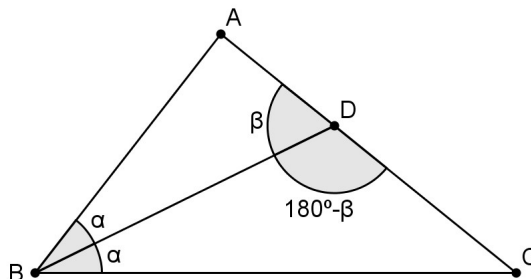
Sea BD la bisectriz del ángulo B en el triángulo ABC . La circunferencia circunscrita del triángulo BDC corta a AB en E , y la del ABD corta a BC en F . Demostrar que $AE = CF$.



Ayuda: utiliza potencia y el teorema del seno.

Solución

La potencia de A respecto de la circunferencia que pasa por BDC es $AE \cdot AB = AD \cdot AC$. Análogamente, $CF \cdot CB = CD \cdot CA$. Juntando ambas expresiones, vemos que tenemos que demostrar que $AD \cdot BC = CD \cdot AB$, sabiendo que BD es la bisectriz.

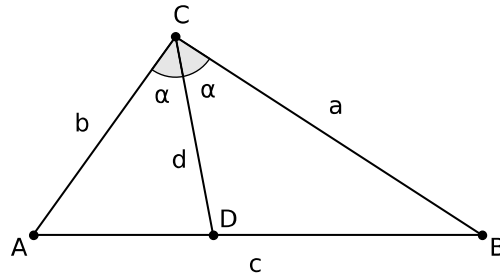


Este resultado se conoce como teorema de la bisectriz. Aplicamos el teorema del seno al triángulo ABD : $AB/\text{sen}(\beta) = AD/\text{sen}(\alpha)$; y análogamente con el triángulo BDC : $BC/\text{sen}(180^\circ - \beta) = CD/\text{sen}(\alpha)$. Despejando los senos, ya que $\text{sen}(180^\circ - \beta) = \text{sen}(\beta)$, obtenemos el resultado.

Problema 2 (fase local OME 2003)

Dado un triángulo de vértices A , B y C , y con lados de longitud $a = BC$, $b = AC$ y $c = AB$, llamemos D al punto de intersección del lado AB con la bisectriz del ángulo C . Demuestra que:

$$2ab \cos(C/2) = CD(a+b)$$



Ayuda: calcula el área del triángulo.

Solución

Llamemos $d = CD$ y $\alpha = C/2$. El área del triángulo ABC es la suma de las áreas de los triángulos ACD y BCD:

$$\frac{1}{2} ab \sin(2\alpha) = \frac{1}{2} bd \sin(\alpha) + \frac{1}{2} ad \sin(\alpha)$$

Sustituyendo $\sin(2\alpha) = 2 \sin(\alpha) \cos(\alpha)$ y multiplicando por 2 y dividiendo entre $\sin(\alpha)$ obtenemos el resultado:

$$2 ab \cos(\alpha) = bd + ad = d(a+b)$$

Problema 3

Sea S la superficie de un triángulo de lados a, b y c. Probar que:

$$a^2 + b^2 + c^2 \geq 4\sqrt{3} S$$

¿Cuándo se da la igualdad?

Ayuda: intenta quedarte con el mínimo de variables, escribiendo unas en función de las demás; ten también en cuenta la desigualdad de las medias (que se cumple si y solo si $a = b$):

$$\frac{a^2 + b^2}{2} \geq ab$$

Solución

Despejamos c y S en función de a, b y el ángulo C:

$$c^2 = a^2 + b^2 - 2ab \cos(C) \qquad 2S = ab \sin(C)$$

Con lo que vemos que la desigualdad es equivalente a:

$$a^2 + b^2 \geq ab(\cos(C) + \sqrt{3} \sin(C))$$

Pero:

$$\sin(C + 30^\circ) = \sin(C) \cos(30^\circ) + \cos(C) \sin(30^\circ) = (\cos(C) + \sqrt{3} \sin(C)) / 2$$

Luego nos queda por probar que:

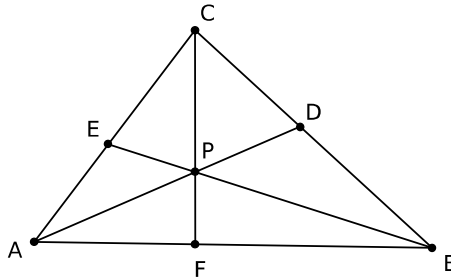
$$a^2 + b^2 \geq 2ab \sin(C + 30^\circ)$$

La desigualdad de las medias nos dice que $a^2 + b^2 \geq 2ab$ con igualdad si y solo si $a = b$. Y $1 \geq \sin(C + 30^\circ)$ con igualdad si y solo si $C = 60^\circ$. Por tanto hemos probado la desigualdad, y la igualdad se da cuando el triángulo es equilátero.

Problema 4 (teorema de Ceva)

Dado un triángulo ABC y tres cevianas (rectas que pasan por un vértice y cortan al lado opuesto, y son distintas de los lados) tales que una pasa por el vértice A y corta al lado opuesto en D, otra pasa por el vértice B y corta al lado opuesto en E, y la última pasa por el vértice C y corta al lado opuesto en F. Demostrar que si las tres cevianas concurren en un punto, entonces $AF \cdot BD \cdot CE$

$$= FB \cdot DC \cdot EA.$$



Ayuda: Aplica seis veces el teorema del seno.

Solución

Aplicando el teorema del seno a los triángulos APF y BPF obtenemos:

$$\frac{AF}{\sin(\widehat{APF})} = \frac{AP}{\sin(\widehat{AFP})} \qquad \frac{BP}{\sin(\widehat{BFP})} = \frac{BF}{\sin(\widehat{BPF})}$$

Análogamente con PBD y PCD:

$$\frac{BD}{\sin(\widehat{BPD})} = \frac{PB}{\sin(\widehat{PDB})} \qquad \frac{PC}{\sin(\widehat{PDC})} = \frac{CD}{\sin(\widehat{CPD})}$$

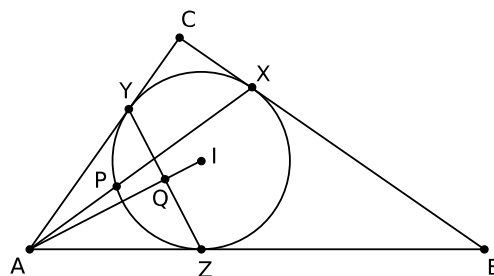
Y con PCE y APE:

$$\frac{CE}{\sin(\widehat{CPE})} = \frac{PC}{\sin(\widehat{PEC})} \qquad \frac{AP}{\sin(\widehat{AEP})} = \frac{AE}{\sin(\widehat{APE})}$$

Ahora basta con multiplicar las seis ecuaciones. En efecto, vemos que en la igualdad resultante los términos AP, BP y CP aparecen en ambos miembros, luego los despejamos. Lo mismo sucede con $\sin(\widehat{APF}) = \sin(\widehat{CPD})$, $\sin(\widehat{BPD}) = \sin(\widehat{APE})$ y $\sin(\widehat{CPE}) = \sin(\widehat{BPF})$. Finalmente despejamos los senos de los ángulos suplementarios: $\sin(\widehat{AFP}) = \sin(\widehat{BFP})$, $\sin(\widehat{PDB}) = \sin(\widehat{PDC})$ y $\sin(\widehat{PEC}) = \sin(\widehat{AEP})$.

Problema 5 (olimpiada iberoamericana de matemática 1990)

En un triángulo ABC, sea I el incentro y sean X, Y y Z los puntos de tangencia del incírculo con los lados BC, CA y AB respectivamente. La recta AX corta al incírculo nuevamente en P, y la recta AI corta a YZ en Q. Demostrar que X, I, Q y P están sobre una misma circunferencia.

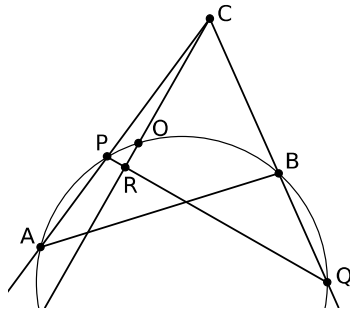


Solución

Por la propiedad de la potencia de un punto (el A) respecto a una circunferencia (la que pasa por X, I y P), basta ver que: $AP \cdot AX = AQ \cdot AI$. Pero $AP \cdot AX$ es la potencia de A respecto al incírculo, luego $AP \cdot AX = AY^2$. Finalmente, el triángulo AYI es rectángulo, e YQ es una de sus alturas, por lo que la igualdad $AQ \cdot AI = AY^2$ no es más que el teorema del cateto.

Problema 6 (Inglaterra 1996)

Sea ABC un triángulo acutángulo y O su circuncentro. Sea S la circunferencia que pasa por A , B y O . Las rectas CA y CB cortan a S otra vez en P y Q . Demostrar que CO es perpendicular a PQ .



Solución

Tenemos que probar que los ángulos RCQ y CQR son complementarios. Sabemos que O es el circuncentro de ABC , y esto es equivalente a las siguientes igualdades entre ángulos: $ACO=CAO$, $ABO=BAO$ y $BCO=CBO$. Teniendo además en cuenta que la suma de esos seis ángulos es 180° , vemos que RCQ es el complementario de CAB . Finalmente observamos que los ángulos CAB y CQR son iguales ya que ambos son inscritos y abarcan el mismo arco de la circunferencia S .